

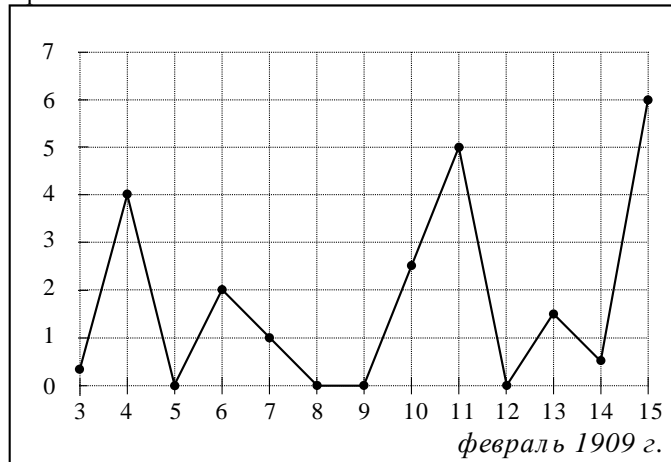
Часть 1

Ответом на задания В1–В12 должно быть целое число или конечная десятичная дробь. Единицы измерений писать не нужно.

В1 В магазине бейсболка стоит 200 рублей. Какое наибольшее число таких бейсболок можно купить на 900 рублей во время распродажи, когда скидка на все товары составляет 15%?

Ответ: _____

В2 На рисунке жирными точками показано суточное количество осадков, выпадавших в Казани с 3 по 15 февраля 1909 года. По горизонтали указываются числа месяца, по вертикали — количество осадков, выпавших в соответствующий день, в миллиметрах. Для наглядности жирные точки на рисунке соединены линией. Определите по рисунку, какое наибольшее суточное количество осадков выпадало за указанный период. Ответ дайте в миллиметрах.



Ответ: _____

В3 Найдите корень уравнения $\sqrt{7x-3} = 5$.

Ответ: _____

В4 В треугольнике ABC угол C равен 90° , $\sin A = \frac{8}{9}$, $AC = 2\sqrt{17}$. Найдите AB .

Ответ: _____

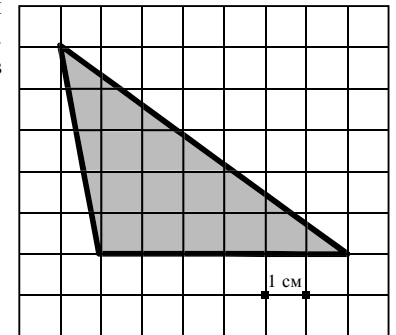
В5 Интернет-провайдер (компания, оказывающая услуги по подключению к сети Интернет) предлагает три тарифных плана.

Тарифный план	Абонентская плата	Плата за трафик
1. План "700"	600 руб. за 700 Мб трафика в месяц	2,5 руб. за 1 Мб сверх 700 Мб
2. План "1000"	820 руб. за 1000 Мб трафика в месяц	2 руб. за 1 Мб сверх 1000 Мб
3. План "Безлимитный"	1100 руб. в месяц	Нет

Пользователь предполагает, что его трафик составит 1200 Мб в месяц и, исходя из этого, выбирает наиболее дешевый тарифный план. Сколько рублей заплатит пользователь за месяц, если его трафик действительно будет 1200 Мб?

Ответ: _____

В6 На клетчатой бумаге с клетками размером 1 см × 1 см изображен треугольник (см. рисунок). Найдите его площадь в квадратных сантиметрах.

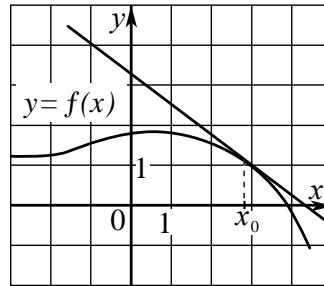


Ответ: _____

В7 Найдите значение выражения: $5^8 \cdot 4^5 : 20^5$.

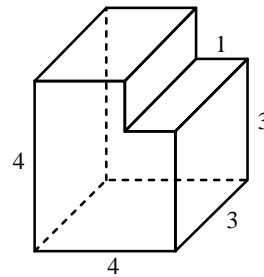
Ответ: _____

B8 На рисунке изображены график функции $y = f(x)$ и касательная к этому графику, проведенная в точке с абсциссой x_0 . Найдите значение производной функции $y = f(x)$ в точке x_0 .



Ответ: _____

B9 Найдите объем многогранника, изображенного на рисунке (все двугранные углы многогранника прямые).



Ответ: _____

B10 Для одного из предприятий-монополистов зависимость объема спроса на продукцию q (единиц в месяц) от её цены p (тыс. руб.) задается формулой $q = 165 - 15p$. Определите максимальный уровень цены p (в тыс. руб.), при котором значение выручки предприятия за месяц $r = q \cdot p$ составит не менее 420 тыс. руб.

Ответ: _____

B11 Найдите наибольшее значение функции $f(x) = x^3 - 5x^2 + 7x - 6$ на отрезке $[0; 2]$.

Ответ: _____

B12 Два велосипедиста одновременно отправились в 130-километровый пробег. Первый ехал со скоростью на 3 км/ч большей, чем скорость второго, и прибыл к финишу на 3 часа раньше второго. Найти скорость велосипедиста, пришедшего к финишу вторым. Ответ дайте в км/ч.

Ответ: _____

Часть 2

Для записи решений и ответов на задания C1–C6 используйте бланк ответов №2. Запишите сначала номер выполняемого задания, а затем полное обоснованное решение и ответ.

C1 Решите систему уравнений

$$\begin{cases} \frac{2\sin^2 x - 3\sin x + 1}{\sqrt{y}} = 0, \\ y - \cos x = 0. \end{cases}$$

C2 В прямоугольном параллелепипеде $ABCD A_1 B_1 C_1 D_1$, у которого $AB = 4$, $BC = 6$, $CC_1 = 4$, найдите тангенс угла между плоскостями CDD_1 и BDA_1 .

C3 Решите неравенство

$$\left(x + \frac{3}{x}\right) \cdot \left(\frac{\sqrt{x^2 - 6x + 9} - 1}{\sqrt{5 - x} - 1}\right)^2 \geq 4 \cdot \left(\frac{\sqrt{x^2 - 6x + 9} - 1}{\sqrt{5 - x} - 1}\right)^2.$$

C4 Через середину стороны AB квадрата $ABCD$ проведена прямая, пересекающая прямые CD и AD в точках M и T соответственно и образующая с прямой AB угол α , $\operatorname{tg} \alpha = 3$. Найдите площадь треугольника BMT , если сторона квадрата $ABCD$ равна 4.

C5 Найдите все значения a , при каждом из которых решения неравенства $|2x - a| + 1 \leq |x + 3|$ образуют отрезок длины 1.

C6 Найдите все пары $(x; y)$ целых чисел, удовлетворяющие системе неравенств:

$$\begin{cases} x^2 + y^2 < 18x - 20y - 166, \\ 32x - y^2 > x^2 + 12y + 271. \end{cases}$$